

SOAL DAN PEMBAHASAN LATIHAN TWK TIU TKP

Pembahasan Lihat Bagian Akhir

1. Setelah melalui proses persidangan akhirnya rumusan Pancasila hasil penggalan Bung Karno tersebut berhasil dirumuskan untuk dicantumkan dalam ...
 - A. Pidato kebangsaan
 - B. Mukadimah Undang-Undang Dasar 1945
 - C. Teks proklamasi
 - D. Sidang BPUPKI
 - E. Batang Tubuh UUD 1945
2. "Bagaimana Pancasila itu dibentuk rumusannya sebagaimana terdapat pada Pembukaan Undang-Undang Dasar 1945 dimana dalam hal tersebut BPUPKI memiliki peran yang sangat menentukan." Hal ini merupakan asal-usul pancasila, yakni ...
 - A. Causa Normatif
 - B. Causa Materialis
 - C. Causa Formatif
 - D. Causa Efisien
 - E. Causa Formalis
3. Jumlah bulu melambangkan hari proklamasi kemerdekaan Indonesia adalah sebagai berikut, *kecuali* ...
 - A. Jumlah bulu pada masing-masing sayap berjumlah 17
 - B. Jumlah bulu dibawah perisai 17
 - C. Jumlah bulu pada leher berjumlah 45
 - D. Jumlah bulu pada ekor berjumlah 8
 - E. Jumlah bulu dibawah pangkal ekor berjumlah 19
4. Tidak boleh memaksakan kehendak kepada orang lain, merupakan nilai yang terkandung dalam Pancasila sila ...
 - A. Pertama
 - B. Kedua
 - C. Ketiga
 - D. Keempat
 - E. Kelima
5. Hasil sidang pertama BPUPKI oleh Prof.Dr.Supomo pada 31 Mei 1945 adalah ...
 - A. Peri kebangsaan, Peri kemanusiaan, Peri ketuhanan, Peri kerakyatan, Kesejahteraan rakyat

- B. Peri ketuhanan, Internasionalisme, Mufakat dan demokrasi, Peri kemanusiaan, Kesejahteraan sosial
- C. Persatuan, Kekeluargaan, Keseimbangan lahir batin, Musyawarah, Keadilan rakyat
- D. Kebangsaan Indonesia, Internasionalisme dan kemanusiaan, Mufakat dan demokrasi, Kesejahteraan sosial, Ketuhanan yang Maha Esa
- E. Persatuan, Kekeluargaan, Keseimbangan lahir batin, Musyawarah, Ketuhanan yang Maha Esa
6. Konsep rancangan Pembukaan UUD 1945 yang disetujui pada 22 Juni 1945 oleh M. Yamin diberi nama ...
- A. Mukaddimah
- B. Pembukaan
- C. Lahirnya Pancasila
- D. Piagam Jakarta
- E. *Gentlemen's Agreement*
7. Amandemen UUD 1945 perlu dilakukan karena beberapa pasal dalam UUD 1945 masih ...
- A. Dapat ditafsirkan beberapa makna dalam penafsirannya
- B. Dapat ditafsirkan menjadi satu pengertian yang kabur
- C. Diperlukan untuk memberikan peluang pemerintah otoriter
- D. Diragukan akan kemampuan UUD dalam menampung aspirasi
- E. Ada pasal yang kurang
8. Untuk mengubah pasal-pasal Undang-Undang Dasar, sidang MPR dihadiri oleh sekurang-kurangnya ... dari jumlah anggota MPR.
- A. 1/2
- B. 3/4
- C. 3/5
- D. 2/3
- E. 4/5
9. Mekanisme kepemimpinan nasional berlangsung secara periodik lima tahun sekali. Sirkulasi ini didasarkan pada UUD 1945 :
- A. Bab III Pasal 4 ayat (1)
- B. Bab IV Pasal 16 ayat (2)
- C. Bab I Pasal 1 ayat (2)
- D. Bab IV Pasal 18
- E. Bab II Pasal 2 ayat (2)
10. Di bawah ini pahlawan yang terlibat dalam perang Aceh adalah, kecuali...
- A. Teuku Umar
- B. Panglima Polim
- C. Teuku Cik Ditiro
- D. Cut Nyak Dien
- E. Dewi Sartika
11. Pusat Tenaga Rakyat atau Putera adalah organisasi yang dibentuk pemerintah Jepang di Indonesia pada 16 April 1943 dan dipimpin oleh Empat Serangkai, kecuali...
- A. Ir. Soekarno

- B. Dr. Cipto Mangunkusumo
- C. M.Hatta
- D. Ki Hajar Dewantoro
- E. K.H Mas Mansyur

12. Berikut ini merupakan makna Indonesia sebagai Negara kesatuan, kecuali ...
- A. Negara yang wargaNegaranyaeratbersatu.
 - B. Otonomiindividuiaukuipentingannyasecaraseimbangdengankepentingankolektivitasrakyat.
 - C. Otonomiindividuiaukuipentingannyasecaraseimbangdengankepentingankolektivitasrakyat.
 - D. Mempersatukanseluruhbangsa Indonesia dalamwadah NKRI
 - E. Mengabaikanadanyapluralismndanmenafikanotonomiindividu rakyat
13. Teori yang menyatakan bahwa adanya negara di dunia ini adalah atas kehendak Tuhan disebut
- A. Teori teokrasi
 - B. Teori kekuasaan
 - C. Teori perjanjian
 - D. Teori kedaulatan
 - E. Teori politik
14. Tujuan negara Republik Indonesia yang berkaitan dengan dunia internasional adalah ...
- A. Menceddaskan kehidupan bangsa
 - B. Memajukan kesejahteraan umum
 - C. Melindungi segenap bangsa dan seluruh tumpah darah
 - D. Melaksanakan ketertiban dunia
 - E. Memajukan kerjasama regional
15. Secara umum kemajemukan Bangsa Indonesia terbagi menjadi 2 macam, yaitu vertikal dan horisontal. Di bawah ini merupakan contoh perbedaan vertikal yaitu...
- A. Suku
 - B. Ras
 - C. Jabatan
 - D. Bahasa
 - E. Adat-istiadat
16. Bhinneka Tunggal Ika telah dirumuskan sebagai semboyan NKRI. Dalam hal ini ke-tunggal-ika-an yang dimaksud dapat pula berarti...
- A. Realitassosial
 - B. Cita-citakebangsaan
 - C. Jembatanemas
 - D. Merdeka
 - E. Berdaulat
17. Pemilihan senat untuk mewakili negara bagian di Amerika Serikat dilaksanakan setiap ... tahun sekali.
- A. 2
 - B. 3

- C. 4
- D. 5
- E. 6

18. Lembaga negara yang berwenang memutuskan persoalan terkait dengan perselisihan hasil pemilu adalah ...

- A. Komisi Yudisial
- B. Presiden
- C. DPR
- D. Mahkamah Agung
- E. Mahkamah Konstitusi

19. Di negara Perancis, senat merupakan perwakilan dari teritori, daerah, dan wilayah administratif dengan masa jabatan ... tahun.

- A. 5
- B. 6
- C. 7
- D. 8
- E. 9

20. Suatu sistem pemerintahan dimana lembaga eksekutif (pemerintah) dan legislatif (parlemen) memiliki kedudukan yang sama dan saling melakukan kontrol (checks and balances) disebut sistem pemerintahan ...

- A. Monarki
- B. Aristokrasi
- C. Referendum
- D. Parlementer
- E. Presidensial

21. Berikut ini yang merupakan salah satu ciri hukum pidana adalah ...

- A. Korban sebagai penggugat
- B. Tersangka sebagai tergugat
- C. Mengatur masalah keluarga
- D. Proses pengadilan setelah ada laporan pihak korban
- E. Mengatur hal-hal yang berupa pelanggaran dan kejahatan

22. Berikut ini pihak yang terlibat dalam pemilihan, pertimbangan, serta pengesahan anggota BPK, yaitu...

- A. Presiden, Wakil Presiden, DPR
- B. MPR, DPD, Presiden
- C. MA, MK, Presiden
- D. DPR, DPD, MPR
- E. DPR, DPD, Presiden

23. Lembaga Negara yang membawahi badan-badan peradilan dalam lingkungan Peradilan Umum, lingkungan Peradilan Agama, lingkungan Peradilan militer dan lingkungan Peradilan Tata Usaha Negara (PTUN) adalah...

- A. Mahkamah Agung
- B. Komisi Yudisial

- C. Mahkamah Konstitusi
D. DPR
E. MPR
24. Referendum yang harus terlebih dahulu mendapat persetujuan langsung dari rakyat sebelum UU tertentu diberlakukan merupakan ...
A. Referendum Obligatoir
B. Referendum Fakultatif
C. Referendum Konsultatif
D. Referendum Terpusat
E. Referendum Kerakyatan
25. Keuntungan utama yang dapat diperoleh dari pelayanan dan perdagangan antar pulau dan antar daerah adalah ...
A. Mempercepat proses integrasi bangsa Indonesia.
B. Budaya salah satu daerah musnah
C. Saling mengenal suku-suku bangsa.
D. Menimbulkan persaudaraan antar pulau dan antar daerah
E. Perkawinan antar suku dan antar daerah
26. Pemilu Pertama pada tahun 1955 digunakan untuk memilih...
A. Anggota MPR
B. Anggota DPR dan Konstituante
C. Presiden dan Wakil Presiden
D. KNIP
E. Menteri
27. Candi Prambanan yang bercorak Hindu dibangun pada masa dinasti ...
A. Syailendra
B. Sanjaya
C. Nalanda
D. Ken Arok
E. Tohjaya
28. Kerajaan yang menjadi pusat kegiatan walisongo adalah...
A. Kerajaan Aceh
B. Kerajaan Demak
C. Kerajaan Mataram
D. Kerajaan Samudera Pasai
E. Kerajaan Kutai
29. Mahatma Gandhi menganjurkan agar rakyat India melaksanakan swadeshi karena ...
A. Barang-barang buatan India mutunya baik dan harganya lebih murah
B. Produk Inggris harganya mahal
C. Penduduk India cukup banyak dan daya belinya memadai
D. India mampu memenuhi kebutuhan sendiri
E. Inggris tidak mungkin memenuhi kebutuhan India

30. Dr. Sun Yat Sen selain dikenal sebagai tokoh nasionalis Cina juga dikenal sebagai pemimpin partai ...
- Yoshinabu
 - The Propaganda Movement
 - AFC
 - Inkata
 - Kno Min Tang
31. Berikut ini adalah tujuan Indonesia mengikuti AFTA, yaitu ...
- Mengadakan perjanjian ekstradisi terhadap seluruh anggota ASEAN
 - Saling menanamkan investasi di wilayah Negara ASEAN
 - Meningkatkan daya saing ASEAN sebagai basis produksi dalam pasar dunia
 - Menghapuskan semua biaya administrasi ekspor dan impor dari Negara ASEAN
 - Membentuk badan keuangan untuk wilayah ASEAN
32. Para pemilik tiket dipersilahkan untuk segera menempati kursi masing-masing, karena film akan segera dimulai.
Jenis kalimat di atas adalah ...
- Kalimat ajakan
 - Kalimat anjuran
 - Kalimat permohonan
 - Kalimat harapan
 - Kalimat penjas
33. Kalimat di bawah ini yang memiliki makna denotasi, *kecuali* ...
- Kiper itu berhasil menangkap bola yang datang sangat kencang dengan sempurna.
 - Tanpa sebab jelas, tiba-tiba Amir melempar buku ke arah belakang.
 - Ucapan tetangga tersebut telah merobek hati Pak Tarja
 - Pak Herman memburu sapinya yang lepas dari kandang
 - Ia sedang mengerjakan PR saat ibunya pulang.
34. Penggunaan kata depan 'di' yang tepat penulisannya terdapat pada kalimat ...
- Burung Pak Harso yang lepas berhasil ditangkap oleh Kang Parto
 - Acara pentas musik di balai desa berlangsung meriah
 - Ketika saudaranya datang, ia sedang mandi disungai
 - Ayam jago Pak Janu di beli dengan harga murah sekali
 - Rumah itu telah lama di jual oleh pemiliknya.
35. Tiga hari yang lalu penjahit itu menyampaikan bahwa bajunya sudah selesai.
Anak kalimat pada kalimat di atas berfungsi sebagai ...
- Subjek
 - Predikat
 - Objek
 - Keterangan
 - Pelengkap
36. MILITAN = _____
- Anti penindasan

- B. Ideologi
- C. Agresif
- D. Brutal
- E. Penggolongan

37. EKSKAVASI = _____

- A. Penggalan
- B. Pertolongan
- C. Pengangkutan
- D. Pelaku
- E. Pelaksana

38. PARADOKSAL = _____

- A. Sejalan
- B. Seiring
- C. Ideal
- D. Kontras
- E. Konsisten

39. PREFIKS > < _____

- A. Awalan
- B. Sisipan
- C. Pelengkap
- D. Tambahan
- E. Akhiran

40. AMATIR > < _____

- A. Palsu
- B. Canggih
- C. Ahli
- D. Partikelir
- E. Anasir

41. TINGGI > < _____

- A. Rendah
- B. Pendek
- C. Sedang
- D. Bongsor
- E. Mungil

42. PIKIRAN : OTAK = ____ : ____

- A. Buku : Printer
- B. Awan : Langit
- C. Kata-Kata : Lisan
- D. Hujan : Uap
- E. Komputer : Ketikan

43. DOMPET : UANG = ____ : ____

- A. Gunung : Harimau

- B. Tas Sekolah : Buku
- C. Laut : Garam
- D. Burung : Sangkar
- E. Kandang : Ayam

44. AGAMA : ATHEIS = _____ : _____

- A. Sandal : Sakit Kaki
- B. Antena : Sinyal
- C. Tali : Jatuh
- D. Buku : Bodoh
- E. Menikah : Bujang

45. PESAWAT : AVTUR = _____ : _____

- A. Radio : Listrik
- B. Sepeda Motor : Bensin
- C. Pedati : Kuda
- D. Handphone : Baterai
- E. Tape Mobil : Accu

46. Seseorang pembuat jalan harus memasang tegel yang panjangnya 6 dm dan lebarnya 60 cm. Ia membutuhkan 700 buah tegel. Berapakah luas jalan tersebut?

- A. 240 m^2
- B. 252 m^2
- C. 242 m^2
- D. 244 m^2
- E. 245 m^2

47. Seorang agen koran telah berhasil menjual 1684 buah koran dari 154 lusin koran yang tersedia. Persentase koran yang tersedia adalah ...

- A. 72,5%
- B. 85%
- C. 88%
- D. 91,1%
- E. 90,1%

48. Narti membeli tabloid setiap 4 hari sekali, sedangkan Lia membeli tabloid setiap 7 hari sekali. Kemarin Narti membeli tabloid. Lia akan membeli tabloid besok. Keduanya paling cepat akan membeli tabloid lagi pada hari yang sama ... hari lagi.

- A. 28
- B. 15
- C. 16
- D. 14
- E. 13

49. Sepotong besi yang panjangnya 5 meter mempunyai berat 25 kg. Berapakah berat besi jika panjangnya 11 meter?

- A. 55 kg
- B. 54 kg
- C. 53 kg
- D. 52 kg
- E. 51 kg

50. Jika $p = 3$, $q = 2$, dan $r = p^2 + 2pq + q^2$, berapakah pqr ?

- A. 150 D. 50
B. 60 E. 65
C. 75

51. Jika $x = 0,08\%$ dari 2,54 dan $y = 2,54\%$ dari 0,08, manakah pernyataan yang benar?
A. $x > y$
B. $x < y$
C. $x = y$
D. hubungan x dan y tidak dapat ditentukan
E. $x \neq y$
52. Sebuah truk yang mengangkut pasir dan empat orang penumpang mempunyai berat total sebesar $3\frac{1}{2}$ ton. Berapa kg beban pasir yang diangkat oleh truk tersebut jika berat rata-rata penumpang adalah 53 kg?
A. 8.020 kg D. 820 kg
B. 5.280 kg E. 800 kg
C. 3.288 kg
53. Sebuah keluarga memiliki lima anak. Anak termuda berusia x tahun dan yang tertua berusia $2x$. Tiga anak lainnya berturut-turut berusia $x + 2$, $x + 4$, dan $2x - 3$. Jika rata-rata usia kelima anak tersebut adalah 16 tahun, berapakah usia anak kedua?
A. 19 tahun D. 15 tahun
B. 22 tahun E. 17 tahun
C. 11 tahun
54. Jarak rumah Anton dari kantornya kira-kira $1\frac{1}{2}$ kilometer. Jika Anton rata-rata berjalan $4\frac{1}{2}$ km setiap jam, berapa jam yang dibutuhkan untuk berjalan pulang pergi selama 6 hari?
A. $\frac{1}{3}$ jam D. 24 jam
B. 4 jam E. $3\frac{1}{2}$ jam
C. $4\frac{3}{4}$ jam
55. Dedi mengendarai sepeda dalam 5 hari dan menempuh jarak 426 km. Hari pertama mencapai 90 km, hari kedua mencapai 65 km, hari ketiga mencapai 110 km, dan hari keempat mencapai 95 km. Berapa kilometer yang ditempuh pada hari kelima?
A. 87 km D. 70 km
B. 78 km E. 73 km
C. 66 km
56. Suatu kelompok diberi dua jenis pertanyaan. 75% bisa menjawab pertanyaan A dan 84% bisa menjawab pertanyaan B. Berapa persentase minimum dan maksimum orang-orang yang bisa menjawab kedua pertanyaan tersebut?
A. 75% sampai dengan 84%
B. 59% sampai dengan 84%
C. 75% sampai dengan 100%
D. 59% sampai dengan 75%
E. 84% sampai dengan 100%

57. Dalam satu kelas yang terdiri dari 60 siswa, 25 siswa memiliki hobi basket, 20 siswa memiliki hobi menggambar dan 27 siswa memiliki hobi menyanyi. 9 orang memiliki hobi basket dan menggambar, 10 orang hobi menggambar dan menyanyi, dan 13 orang memiliki basket dan menyanyi. Jika 20 orang tidak memiliki hobi, berapa siswa yang hanya memiliki dua hobi?

- A. 15 D. 10
 B. 20 E. 32
 C. 30

58. $2 - \frac{1}{4}$ $6 - \frac{1}{8}$

- A. 30 D. 20
 B. 40 E. 50
 C. 10

59. A Z C X E ---

- A. U D. S
 B. V E. O
 C. T

60. Jika cuaca buruk, penerbangan ditunda.
 Hari ini penerbangan maskapai X ditunda.

- A. Penerbangan maskapai X ditunda karena cuaca buruk.
 B. Alasan penundaan semua penerbangan adalah cuaca buruk.
 C. Cuaca tidak buruk, tidak ada penerbangan yang ditunda.
 D. Hanya maskapai X yang ditunda penerbangannya karena cuaca buruk.
 E. Penerbangan maskapai X tidak ditunda, maka cuaca tidak buruk.

61. Semua petani di desa Sukamaju suka bekerja keras.
 Sebagian petani di desa Sukamaju adalah pedagang.

- A. Semua petani di desa Sukamaju adalah pedagang dan suka bekerja keras.
 B. Sebagian petani di desa Sukamaju merupakan pedagang dan suka bekerja keras.
 C. Ada pedagang di desa Sukamaju yang tidak suka bekerja keras.
 D. Sebagian petani di desa Sukamaju adalah pedagang yang tidak suka bekerja keras.
 E. Semua petani yang suka bekerja keras berasal dari desa Sukamaju.

62. Semua apel di kota S harum baunya.
 Sebagian yang harum baunya rasanya manis.

- A. Semua apel di kota S manis rasanya.
 B. Tidak ada apel di kota S yang manis rasanya.
 C. Sebagian apel di kota S rasanya tidak manis.
 D. Sebagian yang rasanya manis bukan apel.
 E. Semua apel yang manis berasal dari kota S.

63. 

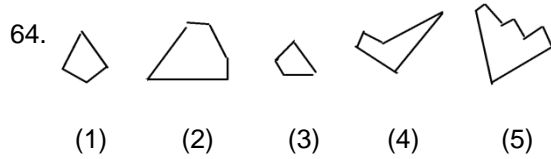
Gambar selanjutnya adalah ...

- 

A. B. C. D. E.

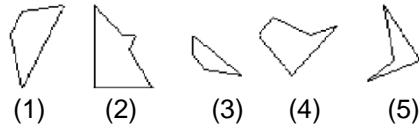
Petunjuk:

Carilah 3 potongan gambar dari 5 potongan gambar yang disediakan disediakan sehingga membentuk bangun persegi empat yang sempurna.



- A. 1 – 2 – 4 D. 2 – 3 – 5
B. 2 – 3 – 4 E. 1 – 4 – 5
C. 3 – 4 – 5

65. Tiga pasang gambar yang dapat membentuk persegi empat adalah ...



- A. 1 – 2 – 3 D. 2 – 3 – 5
B. 1 – 2 – 4 E. 2 – 4 – 5
C. 1 – 2 – 5

66. Bermain game pada saat jam kantor menurut saya ...

- A. Boleh saja
B. Tidak boleh
C. Boleh asal pimpinan meyetujui
D. Boleh asal pekerjaan sudah selesai
E. Boleh asal tidak ketahuan

67. Menyediakan cemilan di meja kerja menurut saya ...

- A. Boleh saja asal tidak terlalu banyak
B. Boleh saja asal bagi-bagi dengan teman
C. Tidak boleh
D. Meminta ijin atasan dulu
E. Boleh asal senior juga melakukan

68. Disaat pekerjaan sedang banyak dan saya diminta lembur oleh pimpinan, anak mengingatkan bahwa saya berjanji mengantarkannya ke acara ulang tahun teman, sikap saya ...

- A. Segera kembali ke rumah
B. Memberi pengertian kepada anak
C. Memberi pengertian kepada pimpinan agar diperbolehkan pulang dan menyelesaikan pekerjaan esok hari
D. Meminta anggota keluarga lain untuk menggantikan

- E. Meminta teman untuk menggantikan lembur
69. Pada saat tugas keluar kota, tiba-tiba keluarga di rumah menelpon mengatakan bahwa orang tua di rumah sedang sakit keras, sikap saya ...
- A. Segera kembali ke rumah
 - B. Meminta izin pimpinan untuk kembali ke rumah
 - C. Menelpon kembali agak telat karena pekerjaan masih menumpuk
 - D. Kembali saat surat tugas selesai
 - E. Menelpon meminta ijin orang tua
70. Tim sepak bola instansi saya selalu kalah dalam setiap pertandingan bola, saya sebaiknya ...
- A. Tetap berusaha mendukung tim instansi saya sekuat tenaga
 - B. Tetap mendukung walau hanya dengan menonton pertandingan saja
 - C. Pura-pura buka tim instansi saya
 - D. Menyarankan agar berlatih lebih keras
 - E. Menyarankan agar dibubarkan saja karena selalu mengalami kekalahan
71. Bagi saya, kegagalan adalah ...
- A. Isyarat tegas bahwa kita harus berhenti
 - B. Justru meningkatkan ketangguhan saya untuk mencoba lagi dengan lebih baik
 - C. Sering menjatuhkan mental saya
 - D. Saya upayakan untuk tidak mengurangi semangat saya
 - E. Mungkin ada unsur kekeliruan dari anggota tim saya
72. Menurut saya para pimpinan besar yang sukses dalam bekerja dan berkarya merupakan ...
- A. Mereka menempuh berbagai rintangan untuk mencapai kesuksesan
 - B. Mereka berusaha keras dalam hidupnya untuk sukses
 - C. Mereka mendapatkan kesempatan dan fasilitas sehingga bisa sukses
 - D. Mereka adalah pribadi yang patut dicontoh
 - E. Mereka orang yang sangat beruntung dan sukses
73. Setiap bangun tidur saya sering merasa...
- A. Banyak tugas yang menanti saya
 - B. Bersemangat untuk melaksanakan aktifitas sehari-hari
 - C. Pusing memikirkan suasana kantor yang kurang nyaman
 - D. Merasa tertantang akan apa yang saya hadapi kedepan
 - E. Berharap semoga hari ini hari baik saya
74. Jika suatu saat nanti anda menjadi seorang pimpinan di kantor tempat saudara bekerja, hal pertama yang saudara lakukan adalah ...
- A. Membuat perubahan kator besar-besaran
 - B. Memperbaiki kualitas SDM kantor
 - C. Merenovasi gedung kantor supaya lebih bagus
 - D. Menciptakan suatu inovasi baru yang dapat memajukan kantor
 - E. Menerapkan manajemen modern seperti yang telah diterapkan di luar negeri

75. Pada saat diminta untuk mengerjakan suatu laporan oleh pimpinan, pimpinan mengingatkan laporan tersebut dapat lebih baik daripada laporan-laporan sebelumnya, cara saya agar dapat memenuhi kemauan saya agar dapat memenuhi kemauan pimpinan adalah ...
- A. Mempelajari laporan sebelumnya kemudian saya beri tambahan dan saya rubah menjadi lebih baik
 - B. Saya rubah bentuk laporannya sehingga berbeda dengan sebelumnya
 - C. Saya meminta senior agar diberi petunjuk cara membuat laporan yang baik
 - D. Saya meminta petunjuk pimpinan
 - E. Saya pelajari bentuk-bentuk laporan dengan standar internasional agar bisa saya terapkan di pekerjaan kantor
76. Sebagian besar barang-barang di kantor adalah barang lama dan banyak yang sudah tidak layak pakai sehingga kondisi kantor terlihat berantakan, mengenai hal ini saya ...
- A. Biasa saja karena bukan merupakan unsur saya
 - B. Saya kumpulkan barang-barang tersebut kemudian saya jual ke pasar barang bekas
 - C. Saya meminta pimpinan agar ada pembaharuan barang kantor
 - D. Saya coba daur ulang dan dekorasi sedemikian rupa agar barang-barang lama masih dapat terpakai
 - E. Saya kumpulkan barang mana yang masih dapat dipakai dan mana yang tidak
77. Slogan menarik yang akan anda kenakan pada usaha anda adalah ...
- A. Cepat dan tidak bikin ribet
 - B. Murah dan berkualitas
 - C. Ramah, cepat, dan tanggap
 - D. Mudah dan cepat
 - E. Lengkap dan murah
78. Anda adalah staf di bagian kepersonaliaan. Pada suatu saat anda ditegur oleh atasan karena ada karyawan yang kontrak kerjanya belum diperbaharui. Maka yang akan anda lakukan adalah ...
- A. Mencari alasan agar tidak dimarahi.
 - B. Menrima resiko.
 - C. Meminta maaf pada karyawan tersebut.
 - D. Segera mengurus kelanjutan kontraknya.
 - E. Mengatakan bahwa pekerjaan sangat banyak, sehingga membutuhkan tambahan karyawan.
79. Terdapat pelanggan terlibat pertengkaran dengan pelanggan lain. Melihat hal tersebut yang akan anda lakukan adalah...
- A. Mengusir mereka.
 - B. Meminta satpam agar melerai keduanya.
 - C. Langsung melaporkan pada pihak berwajib.
 - D. Mengajak mereka untuk menyelesaikan masalah di ruangan tertentu.
 - E. Meminta ganti rugi karena telah membuat kegaduhan dan kerugian.
80. Rekan anda kesulitan untuk mengerjakan tugas kuliahnya dan kebetulan anda menguasai materi tersebut ...
- A. Membrikan buku-buku referensi.
 - B. Membagi ilmu dan mungkin memberikan referensi buku.

- C. Membantu jika diminta.
D. Berpura-pura tidak tahu.
E. Menyarankan agar konsultasi pada dosen
81. Jika teman anda ingin meminjam printer anda untuk mencetak tugas akhirnya, maka yang anda lakukan adalah ...
A. Meminjamkannya.
B. Meminta teman agar mengisi tintanya.
C. Meminta biaya sewa.
D. Meminta maaf karena tidak bisa meminjamkannya.
E. Meminjamkannya dengan perasaan was-was.
82. Menurut anda mementingkan kepentingan orang lain adalah ...
A. Melihat skala prioritas kepentingan.
B. Melihabti budi kebaikan seseorang di masa lalu.
C. Membantu dengan tulus kepada yang membutuhkan.
D. Kebaikan.
E. Perbuatan yang perlu ditanamkan sejak dini.
83. Anda tidak diterima di Universitas dan fakultas yang anda inginkan. Orang tua anda meminta anda meminta pada anda agar memilih kampus lain. Maka yang akan anda lakukan adalah ...
A. Mencoba lagi tahun depan.
B. Mengambil bimbingan belajar agar di tahun depan dapat lolos.
C. Mencoba melamar pekerjaan.
D. Mengikuti saran orang tua dan mencoba belajar dengan giat.
E. Mencoba lagi tahun depan dengan jurusan yang sama namun kampus berbeda.
84. Dalam suatu pementasan drama anda terpilih menjadi tokoh antagonis. Sebenarnya anda sangat menginginkan peran protagonis. Maka yang akan anda lakukan adalah ...
A. Berusaha memerankan secara optimal.
B. Menolak peran tersebut.
C. Berusaha agar anda tetap dapat memerankan tokoh protagonis.
D. Mempertimbangkan tawaran tersebut.
E. Meminta bayaran lebih mahal untuk peran antagonis.
85. Anda diminta untuk memberikan sambutan pada suatu forum. Anda tidak biasa memberikan kata sambutan. Maka reaksi anda ketika anda tetap diminta untuk memberi sambutan tersebut adalah...
A. Meminta orang lain saja untuk memberi sambutan.
B. Mengkomunikasikan pada pembawa acara agar sesi sambutan diwakilkan.
C. Mencoba berbicara walaupun sedikit.
D. Meminta bantuan rekan untuk menyusun teks.
E. Berusaha tenang dan memikirkan hal yang penting untuk disampaikan.
86. Anda sedang berada di kendaraan umum yang penuh sesak dengan penumpang, Anda sedang terburu-buru, namun supir masih berhenti untuk menunggu penumpang lain, maka sikap anda ...
A. Marah pada supir

- B. Menggerutu
C. Biasa saja
D. Turun dari kendaraan umum
E. Bersabar
87. Dalam perjalanan pulang kantor, Anda ditelpon oleh atasan untuk kembali ke kantor menggantikan pekerjaan rekan Anda yang mendadak sakit, maka anda akan ...
A. Menolaknya secara halus
B. Menolaknya karena anda sudah lelah
C. Segera menuruti perintah atasan
D. Kembali ke kantor sambil mengeluh
E. Menolak secara halus, kemudian mematikan handphone
88. Ketika hendak berangkat ke kantor, anak anda mendadak demam, padahal saat itu anda sedang tergesa-gesa, sikap anda ...
A. Membawa anak ke dokter terlebih dulu sambil meminta atasan
B. Menitipkan pada tetangga
C. Membiarkan istri yang mengurusnya
D. Tetap berangkat ke kantor karena itu lebih penting
E. Berangkat ke kantor dengan pikiran tak karuan
89. Anda sedang sibuk mengerjakan tugas, namun sebelum pekerjaan tersebut selesai, Anda diminta tolong oleh atasan anda untuk membantu pekerjaannya, maka anda akan ...
A. Menghiraukannya
B. Melihat dulu jenis pekerjaannya apakah bisa membantu atau tidak
C. Memintanya bekerja sendiri
D. Memarahinya
E. Merekomendasikan rekan yang lain
90. Bagaimana sikap anda jika diberikan tugas yang sama sekali belum pernah anda kerjakan ...
A. Mundur
B. Menolaknya secara tegas
C. Meminta pertimbangan ulang
D. Antusias
E. Menyanggupinya dengan sedikit ragu
91. Anda ditugaskan untuk menggantikan posisi teman Anda, sebelumnya pekerjaan tersebut seringkali tidak pernah anda kerjakan, maka anda akan ...
A. Terantang untuk mengerjakan dengan baik
B. Merasa takut
C. Bekerja seperti biasa
D. menerima dengan berat hati
E. menyiapkan alasan apabila tidak tuntas
92. Tawar beasiswa begitu banyak, namun atasan anda tidak mengisinkan anda untuk mengambil beasiswa dengan alasan pekerjaan sedang banyak, maka anda akan ...
A. Marah kepada keadaan
B. Memakluminya

- C. Meminta atasan untuk mempertimbangkannya
D. Keluar dari kantor
E. Sedih
93. Anda tidak lolos mengikuti seleksi beasiswa ke luar negeri, maka anda akan...
A. Sedih
B. Putus asa
C. Lelah
D. Merasa teratantang untuk mengikutinya lagi periode mendatang
E. Belajar dari kesalahan dan mempersiapkan diri lebih baik lagi
94. Suatu ketika anda mengikuti kontes Puteri Indonesia namun hanya mendapat juara ketiga, maka sikap anda ...
A. Menyesal kesalahan
B. Mempersiapkan diri lebih baik lagi untuk ikut kontes selanjutnya
C. Menyalahkan keadaan
D. Puas dan bangga
E. Biasa saja
95. Anda baru dapat menyelesaikan pekerjaan rekan anda jika anda telah terlebih dahulu menyelesaikan bagian pekerjaan sebelumnya. Namun anda harus mengakui bahwa ia tergolong lamban dala menyelesaikannya, maka anda akan ...
A. Menunggu saja
B. Mengambil alih pekerjaan pada bagiannya itu
C. Memintanya untuk lebih cepat dalam bekerja
D. Melaporkannya kepada atasan
E. Bertanya apa kesulitannya dan membantu sebisa anda
96. Jika anda dan tim kerja anda mendapatkan suatu proyek dengan dana besar, maka anda akan ...
A. Bertanggung jawab dalam melakukan pekerjaan anda
B. Lebih bersemangat
C. Takut
D. Merasa terharu
E. Biasa saja
97. Jika anda dan tim kerja anda mendapatkan suatu proyek dengan dana kecil, maka anda akan ...
A. Bertanggung jawab dalam melakukan pekerjaan anda
B. Lebih bersemangat
C. Takut
D. Merasa terharu
E. Biasa saja
98. Agar semua staf di kantor anda datang tepat waktu ke kantor, maka sebagai pimpinan kantor anda akan ...
A. Memberikan penghargaan kepada staf yang paling patuh
B. Menempel tulisan malu datang terlambat di berbagai tempat yang strategis
C. Memberikan sanksi yang tegas kepada setiap keterlambatan

- D. Datang lebih awal dahulu sembari mengajak para staf anda untuk turut serta dengan anda
- E. Membentuk sebuah komisi penegakkan disiplin
99. Agar semua pegawai baru dapat bersosialisasi dengan baik, maka anda sebagai pegawai lama akan ...
- A. Menawarkan dari kepada atasan untuk membimbing para pegawai baru
 - B. Mencoba mencairkan suasana dengan pegawai baru
 - C. Memperkenalkan diri terlebih dahulu dengan pegawai baru
 - D. Menyelenggarakan acara santai yang dapat mempertemukan pegawai lama dengan pegawai baru
 - E. Cuek saja karena saya banyak pekerjaan yang harus segera diselesaikan
100. Agar semua pegawai di kantor anda dapat mengikuti acara In House Training, maka sebagai panitia kegiatan tersebut anda akan ...
- A. Menyelenggarakan IHT di hari libur
 - B. Menyelenggarakan IHT pada jam istirahat
 - C. Menyelenggarakan IHT setelah jam kantor selesai
 - D. Menyelenggarakan IHT secara bertahap sehingga tidak mengganggu kinerja instansi anda
 - E. Meminta pendapat rekan-rekan anda kapan sebaiknya IHT dilaksanakan

PEMBAHASAN SOAL LATIHAN TWK DAN TIU

1. Setelah melalui proses persidangan akhirnya rumusan Pancasila hasil penggalian Bung Karno tersebut berhasil dirumuskan untuk dicantumkan dalam Mukadimah Undang-Undang Dasar 1945. (B)
2. Causa Formalis → Bagaimana Pancasila itu dibentuk rumusannya sebagaimana terdapat pada Pembukaan Undang-Undang Dasar 1945 dimana dalam hal tersebut BPUPKI memiliki peran yang sangat menentukan. (E)
3. Jumlah bulu dibawah perisai atau pangkal ekor berjumlah 19. (B)
4. Tidak boleh memaksakan kehendak kepada orang lain, merupakan nilai yang dicerminkan oleh sila keempat. (D)
5. Hasil sidang pertama BPUPKI oleh Prof.Dr.Supomo →Persatuan, Kekeluargaan, Keseimbangan lahir batin, Musyawarah, Keadilan rakyat. (C)
6. Konsep rancangan Pembukaan UUD 1945 yang disetujui pada 22 Juni 1945 oleh M. Yamin diberi nama Piagam Jakarta. (D)
7. Amandemen UUD 1945 perlu dilakukan karena beberapa pasal dalam UUD 1945 masih dapat ditafsirkan beberapa makna dalam penafsirannya/ *multitafsir*. (A)
8. Ketetapanannya terdapat pada pasal 37 ayat 3 UUD 1945.(D)
9. Bab IV Pasal 16 ayat (2)→ Mekanisme kepemimpinan nasional berlangsung secara periodik lima tahun sekali.(B)
10. Pahlawan yang terlibat dalam perang Aceh adalah Teuku Umar, Panglima Polim, Teuku Cik Ditiro, Cut Nyak Dien, Cut Meutia.(E)
11. Empat Serangkai→ Ir.Soekarno, M.Hatta, Ki Hajar Dewantoro, K.H Mas Mansyur. (B)
12. Mengabaikan adanya pluralism dan menafikan otonomi individu rakyat bukan merupakan makna Indonesia sebagai Negara kesatuan. (E)
13. Teori Teokrasi: bentuk pemerintahan di mana prinsip-prinsip Ketuhanan memegang peran utama. (A)
14. Tujuan negara Republik Indonesia yang berkaitan dengan dunia internasional adalah untuk melaksanakan ketertiban dunia.(D)
15. Perbedaan vertikal berupa capaian yang diperoleh melalui prestasi (strata sosial ekonomi, posisi politik, tingkat pendidikan, kualitas pekerjaan, dan kondisi permukiman). (C)
16. Ke-tunggal-ika-an berarti sebuah cita – cita kebangsaan. (B)
17. Setiap empat tahun, warga Amerika memilih seorang presiden dan wakilnya. Sedangkan setiap dua tahun, warga Amerika memilih ke 435 anggota DPR AS dan kira-kira sepertiga dari 100 anggota Senat Amerika Serikat. Masa bakti setiap senator enam tahun. (E)
18. Sejak berlakunya UU No. 12/2008, maka sengketa hasil pemilukada ditangani oleh Mahkamah Konstitusi (“MK”). Hal ini berdasarkan ketentuan **Pasal 236C UU No. 12/2008** yang berbunyi: *“Penanganan sengketa hasil penghitungan suara pemilihan kepala daerah dan wakil kepala daerah oleh Mahkamah Agung dialihkan kepada Mahkamah Konstitusi paling lama 18 (delapan belas) bulan sejak Undang-Undang ini diundangkan.”* Wewenang MK untuk menangani sengketa hasil pemilukada juga diatur dalam **Pasal 29 ayat (1) huruf e(“UU 48/2009”)** yang berbunyi: *“Mahkamah Konstitusi berwenang mengadili pada tingkat pertama dan terakhir yang putusannya bersifat final untuk kewenangan lain yang diberikan oleh undang-undang.”* (E)
19. Hingga September 2004, Senat Perancis terdiri atas 321 senator yang terpilih untuk masa jabatan 9 tahun. Setelah masa ini, masa jabatannya dikurangi menjadi 6 tahun, sementara jumlah senatornya akan ditambahkan menjadi 346 pada 2010 untuk mencerminkan perubahan-perubahan dalam demografi Perancis. Saat ini para Senator Perancis dipilih

sepertiganya setiap tiga tahun, namun hal ini juga akan diubah menjadi setengah setiap tiga tahun. (E)

20. Dalam sistem pemerintahan presidensial, kedudukan eksekutif tak bertanggung jawab pada parlemen atau badan perwakilan rakyat. Adapun dasar hukum dari kekuasaan eksekutif dikembalikan kepada pemilihan rakyat. Sebagai kepala eksekutif, seorang presiden menunjuk pembantu-pembantunya yaitu para menteri untuk memimpin departemennya masing-masing dan mereka hanya bertanggung jawab kepada presiden. Negara yang terkenal penganut sistem ini adalah Amerika Serikat yaitu yang mempertahankan ajaran Montesquieu, di mana kedudukan tiga kekuasaan yaitu *legislatif*, *eksekutif* dan *yudikatif* yang terpisah satu sama lain secara tajam dan saling menguji serta saling mengadakan perimbangan (*check and balance*). (E)

21. Ciri-ciri hukum pidana antara lain:

- Mengatur hubungan antar anggota masyarakat dengan negara.
- Mengatur hal-hal yang berupa pelanggaran dan kejahatan.
- Meski tanpa pengaduan korban akan tetap diambil tindakan oleh pengadilan.
- Pihak yang dirugikan cukup melapor kepada yang berwajib (polisi) dan akan menjadi saksi.
- Penggugat adalah penuntut umum. (E)

22. BPK dipilih oleh DPR atas pertimbangan DPD dan dilantik oleh presiden.(E)

23. Tingkat peradilan tertinggi yang dapat membawahi peradilan umum maupun peradilan khusus adalah Mahkamah Agung.(A)

24. **Referendum obligator**

(**referendum** wajib) adalah pemungutan suara rakyat yang wajib dilaksanakan untuk menentukan berlakunya suatu undang-undang dasar negara. Misalnya, **referendum** mengadakan perubahan UUD. Jadi, suatu undang-undang berlaku bila sudah mendapat persetujuan dari rakyat (A)

25. Keuntungan utama yang dapat diperoleh dari pelayaran dan perdagangan antar pulau dan antar daerah adalah mempercepat proses integrasi (pemersatuan) bangsa Indonesia karena adanya ikatan emosional yang terbangun antar suku.(A)

26. Sesuai tujuannya, Pemilu 1955 ini dibagi menjadi dua tahap, yaitu:

- a. Tahap pertama adalah Pemilu untuk memilih anggota DPR. Tahap ini diselenggarakan pada tanggal 29 September 1955, dan diikuti oleh 29 partai politik dan individu,
- b. Tahap kedua adalah Pemilu untuk memilih anggota onstituante. Tahap ini diselenggarakan pada tanggal 15 Desember 1955. (B)

27. Raka I Pikatan, dalam kekuasaannya Hindu dan Buddha hidup berdampingan, dinasti syailendra berada dibawah dinasti sanjaya. Ia bangun Candi Prambanan yang bercorak Hindu. (B)

28. Kerajaan Demak merupakan kerajaan Islam pertama di pulau Jawa dan merupakan kerajaan yang menjadi pusat kegiatan walisogo.(B)

29. Pada masa Mahatma Gandhi *Swadeshi* didefinisikan sebagai "panggil-an bagi konsumen untuk waspada terhadap bahaya yang ditimbulkan dari mendukung industri mereka (asing atau penjajah) yang menghasilkan kemiskinan dan berbahaya bagi para pekerja dan manusia serta makhluk-makhluk lain. Mahatma Gandhi menganjurkan agar rakyat India melaksanakan *swadeshi* karena India mampu memenuhi kebutuhan sendiri. (D)

30. Dr. Sun Yat Sen selain dikenal sebagai tokoh nasionalis Cina juga dikenal sebagai pemimpin partai Kno Min Tang. (E)

31. ASEAN Free Trade Area atau AFTA adalah sebuah persetujuan oleh ASEAN mengenai sector produksi local di seluruh Negara ASEAN. Tujuannya adalah sebagai berikut:

- a) Meningkatkan daya saing ASEAN sebagai basis produksi alam pasar dunia melalui penghapusan bea dan halangan non-bea dalam ASEAN

- b) Menarik investasi asing langsung ke ASEAN (C)
32. Kalimat pada soal menganjurkan para pemilik tiket untuk segera menempati kursi masing-masing, sehingga termasuk sebagai kalimat anjuran. (B)
33. Makna denotasi adalah makna yang sebenarnya dari sebuah kalimat. Pada kalimat pilihan C terdapat kata merobek yang bukan merupakan makna sebenarnya (memiliki makna konotasi) yang berarti menyakiti. (C)
34. Penulisan **di** sebagai kata depan harus ditulis terpisah dengan kata yang mengikutinya (kata benda). (B)
35. Anak kalimatnya: "*bahwa bajunya sudah selesai*" menjadi objek dari kata "*menyampaikan*". (C)
36. Militan = (1) bersemangat tinggi; penuh gairah; berhaluan keras. (C)
37. Ekskavasi = (1) penggalian yang dilakukan di tempat yang mengandung benda purbakala; (2) tempat penggalian benda purbakala. (A)
38. Paradoks = seolah-olah bertentangan dengan pendapat umum atau kebenaran. Tetapi kenyataannya mengandung kebenaran. (D)
39. Prefiks = awalan, lawannya adalah akhiran. (E)
40. Amatir = kegiatan yang dilakukan berdasarkan kesenangan dan bukan untuk memperoleh nafkah. Lawannya adalah ahli. (C)
41. Tinggi = jauh jaraknya dari posisi bawah. Lawannya adalah rendah. (A)
42. Pikiran dihasilkan oleh otak. Kata-kata dihasilkan oleh lisan. (C)
43. Dompet berisi uang. Tas sekolah berisi buku. (B)
44. Agama lawannya atheis (tidak beragama). Menikah lawannya bujang. (E)
45. Avtur bahan bakar pesawat. Bensin bahan bakar sepeda motor. (B)

$$\begin{aligned}
 46. \text{ Luas tegel} &= 60 \text{ cm} \times 60 \text{ cm} \\
 &= 60 \text{ cm} \times 60 \text{ cm} \\
 &= 3.600 \text{ cm}^2 \\
 \text{Lusa jalan} &= 700 \times 3.600 \text{ cm}^2 \\
 &= 2.520.000 \text{ cm}^2 \\
 &= 252 \text{ m}^2 \quad (\text{B})
 \end{aligned}$$

$$\begin{aligned}
 47. 2(12.16 + 12.6 + 16.6) &= 2 \times 360 \\
 &= 720 \quad (\text{C})
 \end{aligned}$$

$$\begin{aligned}
 48. N &= 4 \\
 L &= 7 \\
 N \text{ dibelakang } L \text{ sebanyak } 2 \text{ hari.} \\
 \text{KPK } 2 \text{ dan } 7 &= 14 \\
 \text{Sisa } N &= 2 \\
 14 \div 2 &= 16 \quad (\text{C})
 \end{aligned}$$

$$\begin{aligned}
 49. \text{ Berat besi yang panjangnya } 11 \text{ meter} \\
 &= \frac{11}{5} \times 25 \text{ kg} = 55 \text{ kg} \quad (\text{A})
 \end{aligned}$$

$$\begin{aligned}
 50. r &= 3^2 + 2.3.2 + 2^2 = 25 \\
 pqr &= 3 \times 2 \times 25 = 150 \quad (\text{A})
 \end{aligned}$$

$$51. x = 0,08\% \times 2,54 \parallel y = 2,54\% \times 0,08$$

$$x = 0,002032 \quad \|y = 0,002032$$

Berarti $x = y$ (C)

52. Berat total penumpang = $4 \times 53 \text{ kg} = 212 \text{ kg}$
 Berat pasir = berat total – berat total penumpang
 = $3.500 \text{ kg} - 212 \text{ kg}$
 = 3.288 kg (C)

53. Misal: sisi awal = 1, L awal = $1 \times 1 = 1$
 Sisi sekarang = $1 + (20\% \times 1) = 1,2$
 L sekarang = $1,2 \times 1,2 = 1,44$
 Pertambahan luas = $0,44 = 44\%$ (A)

54. Kecepatan jalan Anton = $4 \frac{1}{2} \text{ km/jam}$
 Jarak pulang pergi dari rumah ke kantor = $1 \frac{1}{2} \times 2 = 3 \text{ km}$
 Waktu yang dibutuhkan untuk berjalan pulang pergi selama 6 hari
 = $6 \times (3 : 4 \frac{1}{2}) = 18 : 4 \frac{1}{2} = 4 \text{ jam}$ (B)

55. Jarak yang ditempuh hari ke lima
 = $426 - (90 + 65 + 110 + 95)$
 = $426 - 360$
 = 66 km (C)

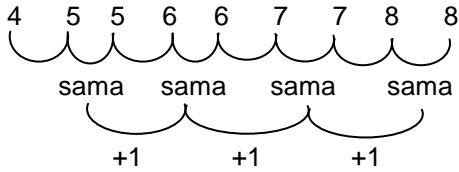
56. Dengan logika soal yang sama diperoleh:
 Jumlah maksimum: 75%
 Jumlah minimum: tidak ada yang tidak menjawab soal, maka diperoleh:
 $S + D = L$
 $100 + D = 75 + 84$
 $100 + D = 159; D = 59\%$
 Dengan demikian, rentang jawabannya adalah $59\% < X < 75\%$ (D)

57. Dengan rumus himpunan:
 Yang suka ketiganya = X
 $40 = 25 + 20 + 27 - 9 - 13 - 10 + X$
 $40 = 40 + X$
 $X = 0$
 Berarti yang hanya suka dua hobi:
 $9 + 13 + 10 = 32 \text{ orang}$ (E)

58. $2 \quad -1/4 \quad 6 \quad -1/8 \quad 10 \quad -1/16$

Angka yang dicetak tebal masing-masing ditambah 4. Angka yang tidak dicetak tebal masing-masing dibagi 2. Jadi, karena letaknya berselang-seling, maka jawabannya adalah $6 + 4 = 10$ dan $-1/8 : 2 = -1/16$. (C)

59. D E E F F G G H H



Pola 2 tingkat dapat diselesaikan seperti gambar di atas.

(C)

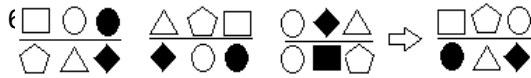
60. Cuaca buruk → penerbangan ditunda.

Hari ini penerbangan maskapai X ditunda.

Jadi, penerbangan maskapai X ditunda karena cuaca buruk. (A)

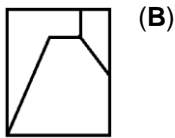
61. Dengan hukum silogisme, maka sebagian petani di desa Sukanmaju merupakan pedagang dan suka bekerja keras. (B)

62. Dengan hukum silogisme, maka sebagian apel dari kota S rasanya manis, artinya sebagiannya yang lain tidak manis. (C)

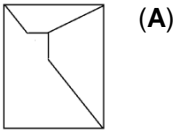


Setiap bentuk bangunan bergeser searah jarum jam, masing-masing sebanyak 2 langkah. Belah ketupat berwarna hitam akan selalu berwarna hitam di setiap perpindahannya. Bangun yang berada di belakang belah ketupat bergiliran berubah menjadi warna hitam tiap pergerakannya. Pergerakan 1, lingkaran jadi hitam, pergerakan 2, segienam jadi hitam, pergerakan 3, persegi jadi hitam, pergerakan 4, segilima jadi hitam. (D)

64. Lihat gambar berikut:



65. Lihat gambar berikut:



PEMBAHASAN SOAL TES TKP (KARAKTERSITIK KEPRIBADIAN)

Poin					
No	5	4	3	2	1
66	B	D	E	C	A
67	D	A	C	B	E
68	B	D	C	E	A
69	B	D	C	A	E
70	A	D	B	C	E
71	B	D	C	A	E
72	B	A	D	C	E
73	B	D	A	E	C
74	D	B	A	E	C
75	A	E	B	C	D
76	D	E	C	A	B
77	C	B	E	D	A
78	D	C	B	E	A
79	D	B	C	E	A
80	B	A	E	C	D
81	A	E	B	D	C
82	C	E	D	A	B
83	D	B	E	A	C
84	A	D	E	C	B
85	E	C	D	B	A
86	E	C	D	B	A
87	C	D	A	B	E

INI HANYA LATIHAN

88	A	C	E	B	D
89	B	E	C	A	D
90	D	E	C	B	A
91	A	C	D	B	E
92	B	C	E	A	D
93	E	D	A	C	B
94	D	B	E	A	C
95	E	D	C	B	A
96	A	B	D	E	C
97	A	B	D	E	C
98	D	B	E	A	C
99	D	A	C	B	E
100	D	E	C	A	B

INI HANYA SOAL LATIHAN